

III. Données géographiques

FICHE PEDAGOGIQUE N°7

Populations et superficies de l'Union Européenne

► **Objectifs pédagogiques :**

- établir des comparaisons à partir de données chiffrées relatives aux populations et superficies de l'UE
- construire un tableau en titrant les lignes et les colonnes
- insérer et classer des données dans un tableau
- analyser des données provenant de sources différentes

► **Objectifs transversaux :**

- convertir des données
- aborder la proportionnalité
- lire les grands nombres
- effectuer une recherche à l'aide des TIC
- susciter une réflexion autour des migrations et des flux migratoires pour mieux comprendre le monde dans lequel on vit
- mettre en lien histoire, activité économique et migration
- s'interroger sur la fiabilité d'une source
- tester sa logique

► **Activités possibles :**

- **A1** : rechercher les pays les plus peuplés et les pays les moins peuplés au monde
- **A2** : classer et comparer des données relatives à la population et la superficie des pays européens
- **A3** : analyser des données relatives à la densité et provenant de sources différentes
- **A4** : comparer la population, la superficie et la densité d'un pays de l'UE avec une région de France

► **Mots-clés et notions abordés :**

densité de population (km²/hb) ; superficie ; territoire ; France métropolitaine ; Outre-mer ; unités de mesure (km²) ; échelles ; grands nombres (milliers / millions) ; décimaux ; statistiques ; proportions ; conversions ; comparatif ; superlatif ; (é)(im)migration ; (é)-(im)migrant ; source officielle

► **Outils et supports :**

tableau ; sites Internet ; carte du monde / de l'UE / de la France et de ses régions ; dictionnaire ; encyclopédie

Activité 1 [A1] : Rechercher les pays les plus peuplés et les pays les moins peuplés au monde

Exercice 1 [E1] : Rechercher une définition dans un dictionnaire

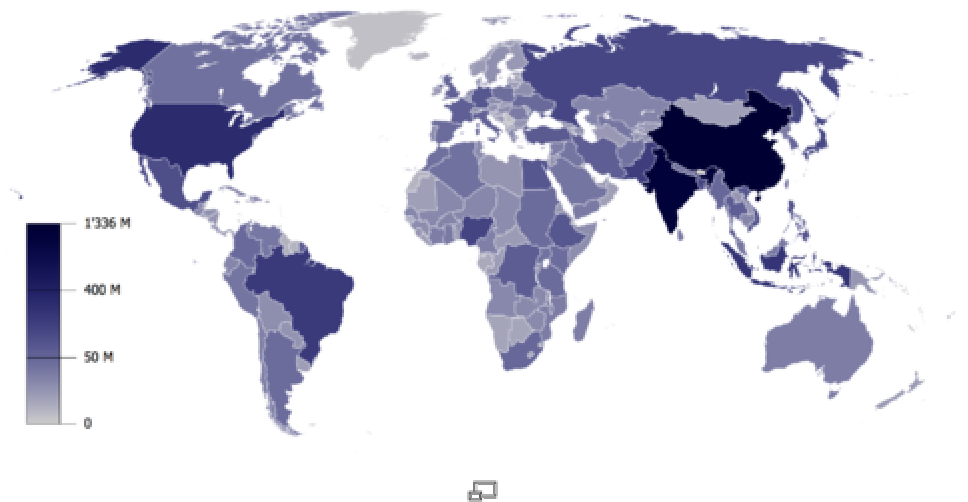
Recherchez la définition du mot « **population** » en citant votre source :

Exercice 2 [E2] : Lire un document et répondre à des questions

Découvrez les pays du monde et leur population en cliquant sur les coordonnées de ce 1^{er} site.

Tapez : http://fr.wikipedia.org/wiki/Liste_des_pays_par_population

Vous voyez apparaître cette carte et un tableau avec 194 pays. Prenez-en connaissance.



Planisphère selon la répartition par nombre d'habitants.



	Pays	Population selon le CIA World Factbook ¹
	Monde entier	6 677 563 921
1	 Chine •  Hong Kong •  Macao Total	1 330 044 605 7 018 636 460 823 1 337 524 064
2	 Inde	1 147 995 898
*	 Union européenne	491 582 852
3	 États-Unis •  Porto Rico •  Guam •  Îles Vierges américaines •  Îles Mariannes du Nord •  Samoa américaines Total	303 824 646 3 958 128 175 877 108 210 86 616 57 496 308 210 973
4	 Indonésie	237 512 355
5	 Brésil	191 908 598
6	 Pakistan	167 762 040
7	 Bangladesh	153 546 901
8	 Russie	140 702 094
9	 Nigeria	138 283 240
10	 Japon	127 288 419
11	 Mexique	109 955 400
12	 Philippines	92 681 453
13	 Viêt Nam	86 116 559
14	 Allemagne	82 369 548
15	 Égypte	81 713 517
16	 Éthiopie	78 254 090
17	 Turquie	71 892 807
18	 République démocratique du Congo	66 514 506
19	 Iran	65 875 223
20	 Thaïlande	65 493 298
21	 France (départements d'outre-mer inclus) •  Saint-Barthélemy •  Nouvelle-Calédonie •  Mayotte •  Saint-Martin •  Saint-Pierre-et-Miquelon •  Polynésie française •  Wallis-et-Futuna •  Terres australes et antarctiques françaises Total	64 057 790 8 450 224 824 216 306 29 376 7 492 260 338 16 448 140 64 821 164
22	 Royaume-Uni •  Bermudes •  Îles Caïmans •  Gibraltar •  Îles Turques-et-Caïques •  Îles Vierges britanniques •  Anguilla •  Montserrat	60 943 912 66 536 46 600 28 002 22 352 24 004 14 108 9 638

	<ul style="list-style-type: none"> •  Sainte-Hélène •  Îles Malouines •  Pitcairn 	7 601 3 140 48
	Total	61 141 937
	<ul style="list-style-type: none"> •  Jersey (dépendance de la couronne) •  Île de Man (dépendance de la couronne) •  Guernesey (dépendance de la couronne) 	91 533 76 220 65 726
	Total	61 375 416
23	 Italie	60 108 000
24	 Corée du Sud	49 232 844
25	 Birmanie	47 758 181
26	 Espagne	46.157.822
27	 Ukraine	45 994 287
28	 Colombie	45 013 674
29	 Afrique du Sud	43 786 115
30	 Argentine	40 677 348
31	 Soudan	40 218 455
32	 Tanzanie	40 213 162
33	 Pologne	38 500 696
34	 Kenya	37 953 838
35	 Algérie	35 700 000
36	<ul style="list-style-type: none"> •  Maroc • Sahara occidentale 	34 343 219 393 831
37	 Canada	33 576 126
38	 Afghanistan	32 738 376
39	 Ouganda	31 367 972
40	 Népal	29 519 114
41	 Pérou	29 180 899
42	 Ouzbékistan	28 268 440
43	 Irak	28 221 181
44	 Arabie saoudite	28 161 417
45	 Venezuela	26 414 815
46	 Malaisie	25 274 133
47	 Corée du Nord	23 479 089
48	 Ghana	23 382 848
49	 Yémen	23 013 376
50	 Taïwan	22 920 946
51	 Roumanie	22 246 862
52	 Mozambique	21 284 701
53	 Sri Lanka	21 128 773
54	<ul style="list-style-type: none"> •  Australie •  Norfolk •  Île Christmas •  Îles Cocos 	20 600 856 2 128 1 402 596
	Total	20 604 982
55	 Madagascar	20 042 551
56	 Syrie	19 747 586
57	 Cameroun	18 467 692
58	 Côte d'Ivoire	18 373 060

59	 Pays-Bas <ul style="list-style-type: none"> •  Antilles néerlandaises •  Aruba 	16 645 313 225 369 101 541 16 972 223
60	 Chili	16 454 143
61	 Kazakhstan	15 340 533
62	 Burkina Faso	15 264 735
63	 Cambodge	14 241 640
64	 Malawi	13 931 831
65	 Équateur	13 927 650
66	 Niger	13 272 679
67	 Guatemala	13 002 206
68	 Sénégal	12 853 259
69	 Angola	12 531 357
70	 Zimbabwe	12 382 920
71	 Mali	12 324 029
72	 Zambie	11 669 534
73	 Cuba	11 423 952
74	 Grèce	10 722 816
75	 Portugal	10 676 910
76	 Belgique	10 403 951
77	 Tunisie	10 383 577
78	 République tchèque	10 220 911
79	 Guinée	10 211 437
80	 Rwanda	10 186 063
81	 Serbie	10 159 046
82	 Tchad	10 111 337
83	 Hongrie	9 930 915
84	 Biélorussie	9 685 768
85	 Somalie	9 558 666
86	 République dominicaine	9 507 133
87	 Bolivie	9 247 816
88	 Suède	9 045 389
89	 Haïti	8 924 553
90	 Burundi	8 691 005
91	 Bénin	8 294 941
92	 Autriche	8 205 533
93	 Azerbaïdjan	8 177 717
94	 Honduras	7 639 327
95	 Suisse	7 581 520
96	 Bulgarie	7 262 675
97	 Tadjikistan	7 211 884
98	 Israël <ul style="list-style-type: none"> • Cisjordanie • bande de Gaza 	7 112 359 2 611 904 1 537 269
99	 Salvador	7 066 403
100	 Paraguay	6 831 306
101	 Laos	6 677 534
102	 Sierra Leone	6 294 774

103	 Jordanie	6 198 677
104	 Libye	6 173 579
105	 Papouasie-Nouvelle-Guinée	5 931 769
106	 Togo	5 858 673
107	 Nicaragua	5 785 846
108	 Danemark	5 484 723
	•  Groenland	56 326
	•  Îles Féroé	48 668
	Total	5 589 717
109	 Slovaquie	5 455 407
110	 Kirghizistan	5 356 869
111	 Finlande	5 244 749
112	 Turkménistan	5 179 571
113	 Érythrée	5 028 475
114	 Norvège	4 644 457
115	 Géorgie	4 630 841
116	 Émirats arabes unis	4 621 399
117	 Singapour	4 608 167
118	 Bosnie-Herzégovine	4 590 310
119	 Croatie	4 491 543
120	 République centrafricaine	4 434 873
121	 Moldavie	4 324 450
122	 Costa Rica	4 195 914
123	 Nouvelle-Zélande	4 173 460
	•  Îles Cook	21 923
	•  Niue	1 444
	•  Tokelau	1 433
Total	4 198 260	
124	 Irlande	4 156 119
125	 Liban	3 971 941
126	 Congo	3 903 318
127	 Albanie	3 619 778
128	 Lituanie	3 565 205
129	 Uruguay	3 477 778
130	 Mauritanie	3 364 940
131	 Libéria	3 334 587
132	 Oman	3 311 640
133	 Panamá	3 292 693
134	 Mongolie	2 996 081
135	 Arménie	2 968 586
136	 Jamaïque	2 804 332
137	 Koweït	2 596 799
138	 Lettonie	2 245 423
139	 Lesotho	2 128 180
140	 Namibie	2 088 669
141	 Macédoine	2 061 315
142	 Slovénie	2 007 711
143	 Botswana	1 842 323
144	 Gambie	1 735 464

145	 Guinée-Bissau	1 503 182
146	 Gabon	1 485 832
147	 Estonie	1 307 605
148	 Maurice	1 274 189
149	 Swaziland	1 128 814
150	 Timor oriental	1 108 777
152	 Trinité-et-Tobago	1 047 366
151	 Fidji	931 741
153	 Qatar	928 635
154	 Chypre	792 604
155	 Guyana	770 794
156	 Comores	731 775
158	 Bahreïn	718 306
157	 Bhoutan	682 321
159	 Monténégro	678 177
160	 Guinée équatoriale	616 459
161	 Salomon	581 318
162	 Djibouti	506 221
163	 Luxembourg	486 006
164	 Suriname	475 996
165	 Cap-Vert	426 998
166	 Malte	403 532
167	 Brunei	381 371
168	 Maldives	379 174
169	 Bahamas	307 451
170	 Islande	304 367
171	 Belize	301 270
172	 Barbade	281 968
173	 Samoa	217 083
174	 Vanuatu	215 446
175	 Sao Tomé-et-Principe	206 178
176	 Sainte-Lucie	172 884
177	 Tonga	119 009
178	 Saint-Vincent-et-les Grenadines	118 432
179	 Kiribati	110 356
180	 Micronésie	107 665
181	 Grenade	90 343
182	 Seychelles	82 247
183	 Dominique	72 514
184	 Andorre	72 413
185	 Antigua-et-Barbuda	69 842
186	 Marshall	63 174
187	 Saint-Christophe-et-Niévès	39 619
188	 Liechtenstein	34 498
189	 Monaco	32 796
190	 Saint-Marin	29 973
191	 Palaos	21 093
192	 Nauru	13 770

193	 Tuvalu	12 177
194	 Vatican	824

En regroupant la population de ses états membres, l'[Union européenne](#) totalise 491 018 677 habitant et se classe en 3^e position entre l'Inde et les États-Unis.

Répondez maintenant aux questions suivantes en faisant des phrases complètes :

- Quelle est la population mondiale ?

- Quel est le pays le plus peuplé au monde ?

- Quel est le pays le moins peuplé au monde ?

- Comment sont classés les pays de la liste ?

- Quelle position occupe la France ?

- Quelle position occupe votre pays de naissance ?

- Quel est le deuxième pays le plus peuplé au monde ? le 3^{ème} ? le 4^{ème} ? le 5^{ème} ?

- Quel est le deuxième pays le moins peuplé au monde ? le 3^{ème} ? le 4^{ème} ? le 5^{ème} ?

- Combien cette liste contient-elle de pays ?

Remplissez à présent le tableau ci-dessous :

Pays	Nombre d'habitants
<u>Nombre de pays au total</u> :	
<i>Pays le plus peuplé au monde :</i>	
Le deuxième pays <i>le plus peuplé</i> au monde :	
Le troisième pays <i>le plus peuplé</i> au monde :	
Pays le moins peuplé au monde :	
Le deuxième pays <i>le moins peuplé</i> au monde :	
Nombre d'habitants en France :	
Nombre d'habitants dans votre pays de naissance :	

Activité 2 [A2] : Classer et comparer des données relatives à la population et la superficie des pays de l'Union Européenne.

Exercice 1 [E1] : Rechercher une définition dans le dictionnaire

Recherchez la définition du mot « **superficie** » en citant votre source :

Exercice 2 [E2] : Repérer le pays le plus petit de l'UE / le pays le plus grand de l'UE ; repérer le pays le plus peuplé de l'UE / le pays le moins peuplé de l'UE

- Constituez 3 groupes :

Groupe 1

Prenez la fiche Europe de l'Annexe 5.

Source :

<http://www.europarl.europa.eu/elections2009/countries/default.htm?language=FR>



Renseignez le tableau suivant :

L'Europe (UE)	
Population : _____	
Superficie : _____	
État le + grand (surface) : _____	État le + petit (surface) : _____
État le + peuplé : _____	État le – peuplé : _____

Groupe 2

Reprenez le tableau des pays de l'Union Européenne.

Source : [Tableau des pays de l'UE – Module de base Europe](#) (Fiche 6 ou Annexe 4)

Renseignez le tableau suivant :

L'Europe (UE)	
Population : _____	
Superficie : _____	
État le + grand (surface) : _____	État le + petit (surface) : _____
État le + peuplé : _____	État le – peuplé : _____

Groupe 3

Lisez ce tableau :

Source : http://fr.wikipedia.org/wiki/Statistiques_sur_l'Union_europ%C3%A9enne

États-membres	Population en millions	Population % de l'UE	Superficie km ²	Superficie % de l'UE
Union européenne	454,9	100,0%	3 976 952	100,0%
Bulgarie	7,7	1,7%	non renseigné	non renseigné
Roumanie	22,2	4,9%	non renseigné	non renseigné
Allemagne	82,4	18,1%	357 021	9,0%
Autriche	8,2	1,8%	83 858	2,1%
Belgique	10,3	2,3%	30 510	0,8%
Chypre	0,8	0,2%	9 250	0,2%
Danemark	5,4	1,2%	43 094	1,1%
Espagne	40,2	8,8%	504 782	2,7%
Estonie	1,4	0,3%	45 226	1,1%
Finlande	5,2	1,1%	337 030	8,5%
France	63,8	14,3%	547 030	13,8%
Grèce	10,7	2,4%	131 940	3,3%
Hongrie	10,0	2,2%	93 030	2,3%
Irlande	3,9	0,9%	70 280	1,8%
Italie	58,0	12,8%	301 320	7,6%
Lettonie	2,3	0,5%	64 589	1,6%
Lituanie	3,5	0,8%	65 200	1,6%
Luxembourg	0,5	0,1%	2 586	0,1%
Malte	0,4	0,1%	316	0,0%
Pays-Bas	16,2	3,6%	41 526	1,0%
Pologne	38,6	8,5%	312 685	7,9%
Portugal	10,1	2,2%	92 931	2,3%
République tchèque	10,2	2,2%	78 866	2,0%
Royaume-Uni	59,9	12,1%	244 820	6,2%
Slovaquie	5,4	1,2%	48 845	1,2%
Slovénie	1,9	0,4%	20 253	0,5%
Suède	8,9	2,0%	449 964	11,3%

Renseignez le tableau suivant :

L'Europe (UE)	
Population : _____	
Superficie : _____	
État le + grand (surface) : _____	État le + petit (surface) : _____
État le + peuplé : _____	État le – peuplé : _____

- En grand groupe

Comparez les données et dites quelles sources vous semblent les plus fiables :

Exercice 3 [E3] : Repérer et classer les 27 pays de l'UE en fonction de leur population et de leur superficie

Reprenez le tableau des pays de l'Union européenne et des pays candidats

Source : [module de base Europe - pages 11 à 21](#) (Annexe 4)

Puis, inscrivez dans le tableau ci-dessous la **population** et la **superficie des 27 pays de l'Union européenne**. Suivez l'ordre alphabétique.

	Pays	Population	Superficie
1.			
2.			
3.			
4.			
5.			
6.			
7.			
8.			
9.			
10.			
11.			
12.			
13.			
14.			
15.			
16.			
17.			
18.			
19.			
20.			
21.			
22.			
23.			
24.			
25.			
26.			
27.			

- Répondez maintenant aux questions suivantes :
(vos réponses doivent être rédigées)

- Quel est le pays le plus peuplé de l'UE ?

- Quel est le pays le moins peuplé de l'UE ?

- Quel est le pays le plus grand de l'UE ?

- Quel est le pays plus petit de l'UE ?

- Quelle est la superficie de la France ?

- Quelle est la population de la France ?

- Classez ensuite les pays d'Europe :

- du plus petit au plus grand
- du moins peuplé au plus peuplé (par ordre croissant)

ou

- du plus grand au plus petit
- du plus peuplé au moins peuplé (par ordre décroissant).

Ordre croissant :

Ordre décroissant :

Pays		
	<i>La superficie</i>	<i>La population</i>
1.		
2.		
3.		
4.		
5.		
6.		
7.		
8.		
9.		
10.		
11.		
12.		
13.		
14.		
15.		
16.		
17.		
18.		
19.		
20.		
21.		
22.		
23.		
24.		
25.		
26.		
27.		

Exercice 4 [E4] : Utiliser le comparatif et le superlatif

A l'aide des tableaux renseignés, complétez l'exercice à trous suivant :

1. Le/la _____ (nom d'un des 27 pays de l'UE)

est _____

(+ peuplé) que le/la _____ (nom d'un des 27
pays de l'UE).

2. Le/la _____ (nom d'un des 27 pays de l'UE)

est _____

(- peuplé) que le/la _____ (nom d'un des 27
pays de l'UE).

3. Le/la _____ (nom d'un des 27 pays de l'UE)

est _____

(+ grand) que le/la _____ (nom d'un des 27
pays de l'UE).

4. Le/la _____ (nom d'un des 27 pays de l'UE)

est _____

(+ petit) que le/la _____ (nom d'un des 27
pays de l'UE).

Exercice 5 [E5] : Tester sa logique

Testez votre logique en répondant à ces questions.

- Parmi ces pays de l'Union Européenne :

- *L'Irlande est moins peuplée que le Danemark ;*

- *L'Espagne est plus peuplée que l'Irlande.*

À partir de ces informations et uniquement de celles-ci, donnez votre avis sur les propositions suivantes :

Si c'est « vrai » : **V**

Si c'est « faux » : **F**

Si « on ne peut pas décider si c'est vrai ou faux » : ?

a) Le Danemark est le pays le plus peuplé des trois. []

b) L'Espagne est le pays le plus peuplé des trois. []

c) On ne peut pas décider quel est le plus peuplé des trois pays. []

d) L'Irlande n'est pas le pays le moins peuplé des trois. []

e) L'Irlande est le pays le moins peuplé des trois. []

- Classez ces pays du plus grand au moins grand, sachant que :

- La Pologne est plus grande que la Grèce ;
- La Slovaquie est plus grande que la Belgique ;
- La Finlande est plus grande que la Pologne ;
- La Slovaquie est moins grande que la Hongrie ;
- L'Espagne est plus grande que la Finlande ;
- La Grèce est moins grande la Finlande ;
- L'Espagne est plus grande que la Grèce ;
- La Pologne est moins grande que l'Espagne ;
- La Slovaquie est moins grande que la Grèce ;
- La Grèce est plus grande que la Hongrie.

Inscrivez maintenant les noms de pays en fonction de leur taille :

_____ > _____ > _____ > _____ >

_____ > _____ > _____

Activité 3 [A3] : Analyser des données relatives à la densité et provenant de sources différentes

Exercice 1 [E1] : Rechercher une définition dans le dictionnaire

Recherchez la définition du mot « **densité** » en citant votre source :

Exercice 2 [E2] : Lire un tableau et répondre à des questions traitant de la population et de la densité (nombre d'habitants au km²) des pays de l'Union européenne

- Analysez ces données extraites du site de l'INSEE :

Source :



Institut national de la statistique et des études économiques

http://www.insee.fr/fr/themes/tableau.asp?reg_id=98&ref_id=CMPTEF01105

2007		
Pays	Population (en millions)	Densité moyenne (en hab./km ²)
Europe	733,0	32
Allemagne	82,3	230
Autriche	8,3	99
Belgique	10,6	348
Chypre	1,0	111
Danemark	5,5	127
Espagne	45,3	90
Estonie	1,3	30
Finlande	5,3	16
France	63,6	98
Grèce	11,2	85
Hongrie	10,1	108
Irlande	4,4	62
Italie	59,3	197
Lettonie	2,3	35
Lituanie	3,4	52
Luxembourg	0,5	180
Malte	0,4	1 288
Pays-Bas	16,4	394

Pologne	38,1	122
Portugal	10,7	116
République tchèque	10,3	131
Royaume-Uni	61,0	251
Slovaquie	5,4	110
Slovénie	2,0	99
Suède	9,1	20
<i>Union européenne à 25</i>	<i>467,8</i>	<i>105</i>
Autres pays d'Europe	265,2	14
dont :		
<i>Biélorussie</i>	<i>9,7</i>	<i>47</i>
<i>Bulgarie</i>	<i>7,7</i>	<i>69</i>
<i>Croatie</i>	<i>4,4</i>	<i>79</i>
<i>Moldavie</i>	<i>4,0</i>	<i>118</i>
<i>Norvège</i>	<i>4,7</i>	<i>12</i>
<i>Roumanie</i>	<i>21,6</i>	<i>90</i>
<i>Russie</i>	<i>141,7</i>	<i>8</i>
<i>Serbie</i>	<i>9,5</i>	<i>108</i>
<i>Monténégro</i>	<i>0,6</i>	<i>45</i>
<i>Suisse</i>	<i>7,5</i>	<i>182</i>
<i>Ukraine</i>	<i>46,5</i>	<i>77</i>
Monde	6 625,0	49

Source : Population reference bureau.

- Vous noterez que les données relatives à la Bulgarie et à la Roumanie ne figurent pas dans la liste des pays de l'UE, mais dans celle des « autres pays d'Europe ». Selon vous, pourquoi ?

-
-
- Pour avoir le nombre d'habitants de l'UE à 27, additionnez le nombre d'habitants de l'UE à 25 et le nombre d'habitants pour ces deux pays. Vous obtenez : _____

Pays	Population (en millions)
Union européenne à 25	
Bulgarie	
Roumanie	
Total (UE à 27)	

- Répondez maintenant aux questions suivantes :
(vos réponses doivent être rédigées)

- Quel est le pays de l'UE à 27 qui a la plus forte densité ?
-

- Quel est le pays de l'UE qui a la densité la plus faible ?
-

- Quelle est la densité de la France ?
-

- Quelle est la densité de l'UE ?
-

- Quelle est la densité de l'Europe ?
-

- Quelle est la densité à l'échelle mondiale ?
-

Activité 4 [A4] : Comparer la population, la superficie et la densité d'un pays de l'UE avec une région de France

Exercice 1 [E1] : Comparer la population, la superficie et la densité d'un pays de l'UE avec celles de la région où vous vivez et une région de votre choix

En binôme

Voici une liste des régions de France.

Source : <http://france.ousuisje.com/regions/classement/>

Classement de toutes les régions de France - Population, Densité, Superficie
Toutes les régions de France

Région	Superficie [en km ²]	Population	Densité [hab. /km ²]
Alsace	8 280	1 817 000	219
Aquitaine	41 309	3 099 000	75
Auvergne	26 013	1 337 000	51
Basse-Normandie	17 568	1 449 000	82
Bourgogne	31 582	1 626 000	51
Bretagne	27 208	3 081 000	113
Centre	39 151	2 505 000	64
Champagne Ardenne	25 606	1 339 000	52
Corse	8 680	279 000	32
Franche-Comté	16 202	1 151 000	70
Guadeloupe	1 800	453 000	265
Guyane	86 504	230 000	4
Haute-Normandie	12 317	1 811 000	147
Île-de-France	12 011	11 577 000	964
La Réunion	2 512	785 200	313
Languedoc Roussillon	27 376	2 548 000	93
Limousin	16 942	725 000	43
Lorraine	23 547	2 343 000	98
Martinique	1 128	401 000	355
Midi-Pyrénées	45 348	2 755 000	61
Nord Pas de Calais	12 414	4 048 000	326
Pays de la Loire	32 082	3 426 000	107
Picardie	19 399	1 886 000	96
Poitou-Charentes	25 810	1 713 000	66
Provence Alpes Côte d'Azur	31 400	4 818 000	144
Rhône-Alpes	43 698	6 058 000	138

- Combien y a-t-il de régions en France ?

- Recherchez les régions situées en France métropolitaine et celles situées outre-mer.

- Relevez la population, la superficie et la densité de la région où vous vivez et celles d'une deuxième région ; puis relevez celles d'un pays de l'UE (utilisez les fiches pays - Annexe 5).
- Remplissez le tableau ci-dessous :

	Région	Population	Superficie	Densité
1.	où vous habitez			
2.	région de votre choix			
	Pays choisi	Population	Superficie	Densité

- En grand groupe

Analysez vos résultats.